

**СОЛЬ ФЕДЖІО**

2 група - Elementary (елементарний)

**1. ТЕСТОВІ ЗАВДАННЯ:**

1) Визначте тональність мелодії:



7) Визначте розмір кожного такту:

№	такти	розмір	№	такти	розмір
А)			Д)		
Б)			Е)		
В)			Є)		
Г)			Ж)		

8) Визначте будову заданих акордів, впишіть номер відповіді:

А)	Б)	В)	Г)	Д)	Е)	Є)
В <sub>6</sub>	Д <sub>7</sub>	М <sub>5<sub>3</sub></sub>	В <sub>6<sub>4</sub></sub>	М <sub>6</sub>	В <sub>5<sub>3</sub></sub>	М <sub>6<sub>4</sub></sub>

1)	2)	3)	4)	5)	6)	7)
ч.4+м.3	в.3+м.3	м.3+ч.4	ч.4+в.3	м.3+в.3	в.3+м.3+м.3	в.3+ч.4











9) Допишіть назви й тоніки паралельних тональностей за зразком. Запишіть ключові знаки.

	До мажор ля мінор		Г)	_____ мінор Соль мажор	
А)	Фа мажор _____ мінор		Д)	Ля мажор _____ мінор	
Б)	_____ мажор сі мінор		Е)	до мінор _____ мажор	
В)	соль мінор _____ мажор				

10) Визначте інтервали в тональності сі мінор, підпишіть назву інтервалів і на якому ступені він побудований:

А)      Б)      В)      Г)      Д)      Е)      Є)      Ж)      З)

## 2. СЛУХОВИЙ АНАЛІЗ

1)		B <sub>5</sub> <sub>3</sub>
2)		нат. мін.
3)		B <sub>6</sub> <sub>4</sub>
4)		Д7
5)		м.7
6)		м.3
7)		B <sub>6</sub>
8)		зб.4 в.6
9)		M <sub>6</sub>
10)		мелод. мін.

## 3. РИТМИЧНИЙ ДИКТАНТ



## 4. МЕЛОДИЧНИЙ ДИКТАНТ

